

**КРИТЕРИИ И МЕТОДИКА ОЦЕНИВАНИЯ  
ВЫПОЛНЕННЫХ ОЛИМПИАДНЫХ ЗАДАНИЙ ТЕОРЕТИЧЕСКОГО ТУРА  
школьного этапа всероссийской олимпиады школьников  
по основам безопасности и защиты Родины  
2024/2025 учебный год  
11 класс**

## МОДУЛЬ 1

**ЗАДАНИЕ 1. Дополните текст недостающими фрагментами.**

**Условия и порядок заключения браков (глава 3):**

«Брак заключается в органах записи актов **гражданского (1)** состояния.

Права и обязанности супругов возникают со дня государственной регистрации брака.

Заключение брака производится в личном присутствии лиц, вступающих в брак, по истечении **месяца (2)** со дня подачи ими заявления в **ЗАГС (3)**.

Для заключения брака необходимо **взаимное (4)** добровольное **согласие (5)** мужчины и женщины, вступающих в брак, и достижение ими брачного возраста.

Брак не может быть заключён, если хотя бы одно лицо из заключающих брак уже состоит в другом **зарегистрированном браке (6)**. Не допускается заключение брака между **близкими родственниками (7)**.

В Российской Федерации установлен единый **минимальный (8)** брачный возраст в **восемнадцать (9)** лет для мужчин и для женщин. Предельный возраст для вступления в брак **не установлен (10)**».

**Оценка задания.** Максимальная оценка за правильно выполненное задание - **10 баллов**, при этом:

- за каждый правильный ответ начисляется по **1 баллу**;
- при отсутствии правильных ответов баллы не начисляются.

**ЗАДАНИЕ 2. Установите соответствие.**

	Меридианы и азимуты
А	Магнитный полюс
Б	Географический полюс
В	Истинный меридиан
Г	Магнитный азимут
Д	Истинный азимут
Е	Магнитный меридиан

**Ответ:**

1	2	3	4	5	6
Б	А	Е	Д	Г	В

**Оценка задания.** Максимальная оценка за правильно выполненное задание - **30 баллов**, при этом:

- за каждое правильное соответствие начисляется **5 баллов**;
- при отсутствии правильных ответов баллы не начисляются.

**ЗАДАНИЕ 3. Одним из первых пунктов мероприятий оказания первой помощи, является оценка обстановки и создание безопасных условий для её оказания. Установите соответствием правильную последовательность действий.**

№ п/п	Действия при оценке обстановки и создания безопасных условий для оказания первой помощи пострадавшим	
1.	А	Оценка количества пострадавших
2.	Б	Определение угрожающих факторов для жизни и здоровья пострадавшего
3.	В	Перемещение пострадавшего (при необходимости)
4.	Г	Прекращение действия повреждающих факторов на пострадавшего
5.	Д	Определение угрожающих факторов для собственной жизни и здоровья
6.	Е	Извлечение пострадавшего из транспортного средства или других труднодоступных мест (при необходимости)

7.	Ж	Устранение угрожающих факторов для жизни и здоровья
----	---	---

**Ответ:** 1–Д; 2–Б; 3–Ж; 4–Г; 5–А; 6–Е; 7–В.

**Оценка задания.** Максимальная оценка за правильно выполненное задание - **35 баллов**, при этом:

- за каждый правильный ответ начисляется **5 баллов**;
- при отсутствии правильных ответов баллы не начисляются.

**ЗАДАНИЕ 4. Установите соответствие.**

	1	А	Эмблема Военно-Морского флота
	2	Б	Эмблема Ракетных войск стратегического назначения
	3	В	Эмблема Воздушно-десантных войск

	4	Г	Эмблема войск радиационной, химической и биологической защиты
	5	Д	Эмблема инженерных войск
	6	Е	Эмблема Сухопутных войск
	7	Ж	Эмблема Воздушно-космических сил

**Ответ:**


1	2	3	4	5	6	7
Е	Ж	А	Б	В	Д	Г

**Оценка задания.** Максимальная оценка за правильно выполненное задание - *35 баллов*, при этом:

- за каждое правильное соответствие начисляется *5 баллов*;
- при отсутствии правильных ответов баллы не начисляются.

**МОДУЛЬ 2**  
**Тестовые задания**

№ п/п	Тестовые задания	Макс. балл
<i>Определите один правильный ответ</i>		
1.	 <p>Данный дорожный знак относится к группе знаков:</p> <p>А) сервиса;</p> <p>Б) информационных;</p> <p>В) особых предписаний;</p> <p>г) дополнительной информации.</p>	2
2.	<p>Если врач-специалист по результатам освидетельствования выносит заключение о категории годности к военной службе используя следующую формулировку – «В», это значит, что проходящий ее ...</p> <p>а) годен к военной службе;</p> <p>б) не годен к военной службе;</p> <p>в) ограничено годен к военной службе;</p> <p>г) временно не годен к военной службе.</p>	2
3.	 <p>Сигнальный цвет данного знака:</p> <p>а) красный;</p> <p>б) жёлтый;</p> <p>в) зелёный;</p> <p>г) синий.</p>	2
4.	<p>В соответствии со шкалой Меркали землетрясение в 4 балла считается:</p> <p>а) незаметное;</p> <p>б) слабое;</p> <p>в) очень слабое;</p> <p>г) умеренное.</p>	2
5.	<p>Какой цвет используют для отображения элементов</p>	2

	<p><b>рельефа и некоторых разновидностей грунта на топографических картах:</b></p> <p>а) синий;</p> <p><b>б) коричневый;</b></p> <p>в) зеленый;</p> <p>г) розовый.</p>	
6.	<p><b>Что представляет собой ширина строя?</b></p> <p>а) расстояние от первой шеренги до последней шеренги;</p> <p><b>б) расстояние между флангами;</b></p> <p>в) расстояние в глубину между военнослужащими;</p> <p>г) расстояние по фронту между военнослужащими.</p>	2
7.	 <p><b>Какое стрелковое оружие изображено на рисунке?</b></p> <p>а) 5,45-мм автомат Калашникова АК74М;</p> <p><b>б) 7,62-мм модернизированный пулемёт Калашникова ПКМ;</b></p> <p>в) 7,62-мм снайперская винтовка Драгунова СВД;</p> <p>г) 12,7-мм пулемёт НСВ-12,7.</p>	2
8.	<p><b>В соответствии с классификацией основных инфекционных заболеваний, к какой группе относится сап?</b></p> <p>а) кишечные инфекции;</p> <p>б) инфекции дыхательных путей;</p> <p>в) кровяные инфекции;</p> <p><b>г) инфекции наружных покровов.</b></p>	2
9.	<p><b>О каком понятии высказывался древнеримский политик Марк Туллий Цицерон (106-43 гг. до н.э.): «Обязанности мудрого – заботиться о своём имуществе, не совершая</b></p>	2

	<p><b>ничего противного обычаям, законам и установлениям; ведь мы хотим быть богаты не только ради себя, но и ради детей, родных и друзей, а особенно ради государства; ведь средства и достояние отдельных лиц составляют богатства гражданской общины»?</b></p> <p>а) активная гражданская позиция;  б) альтруизм;  в) эгоизм;  г) <b>здоровье.</b></p>	
10.	<p><b>Как первоначально называлась система гражданской обороны в нашей стране (СССР)?</b></p> <p>а) ПВО;  б) <b>МПВО;</b>  в) ОМП;  г) ОСП.</p>	2
<b>Определите все правильные ответы</b>		
11.	<p><b>Толщина льда 13 сантиметров является безопасной:</b></p> <p>а) <b>для одного человека;</b>  б) <b>для сооружения катка;</b>  в) для совершения пешей переправы организованной группой;  г) для проезда автомобилей.</p>	4
12.	<p><b>К гидрологическим ЧС относятся:</b></p> <p>а) туманы;  б) ливни;  в) <b>сели;</b>  г) <b>цунами.</b></p>	4
13.	<p><b>Определите вредоносные программы, представляющие наибольшую опасность.</b></p> <p>а) Exploit;  б) <b>Net-Worm;</b></p>	4



	в) Rootbot; г) Virus.	
14.	<b>К защитным сооружениям гражданской обороны относят:</b> а) хранилища; б) убежища; в) противорадиационные укрытия; г) зернохранилища.	4
15.	<b>К табельным медицинским средствам индивидуальной защиты относят:</b> а) АИ-2; б) Л-1; в) ПДФ-7; г) ИПШ-8.	4
	<b>Количество баллов</b>	<b>max 40</b>

### Матрица ответов на тестовые задания

<b>Номер теста</b>	<b>1</b>	<b>2</b>	<b>3</b>	<b>4</b>	<b>5</b>
Верный ответ	а	в	б	г	б
<b>Номер теста</b>	<b>6</b>	<b>7</b>	<b>8</b>	<b>9</b>	<b>10</b>
Верный ответ	б	б	г	г	б
<b>Номер теста</b>	<b>11</b>	<b>12</b>	<b>13</b>	<b>14</b>	<b>15</b>
Верный ответ	а, б	в, г	б, г	б, в	а, г

#### **Примечание:**

а) в тестовых заданиях с определением одного ответа за верный ответ начисляется *2 балла*;

б) в тестовых заданиях с определением нескольких ответов за каждый верный ответ начисляется по *2 балла* (например, если участник отметил один из двух верных ответов и один неверный ответ, то он получает *2 балла*);

в) при оценке заданий, *0 баллов* выставляется за отсутствие правильных ответов, а также, если участником отмечено большее количество ответов, чем предусмотрено в ключе (в том числе правильные) или все ответы.

<b>1</b>	<b>2</b>	<b>3</b>	<b>4</b>	<b>тесты</b>	<b>итого</b>
10	30	35	35	40	150

**КРИТЕРИИ И МЕТОДИКА ОЦЕНИВАНИЯ  
ВЫПОЛНЕННЫХ ОЛИМПИАДНЫХ ЗАДАНИЙ  
ПРАКТИЧЕСКОГО ТУРА  
школьного этапа всероссийской олимпиады школьников по  
основам безопасности и защиты Родины  
2024/2025 учебный год  
(11 класс)**

**ЗАДАНИЕ 1. Выживание в условиях природной среды. Выбор съедобных и несъедобных ягод.**






**Условия:** по изображениям определить съедобные и несъедобные (ядовитые) ягоды.

**Задание:** необходимо определить пищевую пригодность ягод, разделить представленные изображения на две группы: съедобные и несъедобные (ядовитые) ягод.

**Съедобные ягоды**

		черника
		клюква
		брусника
		голубика
		черная бузина

Ядовитые ягоды

	<p>дафна (волчегодник)</p>
	<p>ландыш</p>
	<p>вороний глаз</p>
	<p>белладонна (красавка)</p>
	<p>паслен сладко-горький (красный)</p>

**Контрольное время:** – 1 минута.


**Оценка задания.** Максимальная оценка за правильно выполненное задание – *50 баллов*, при этом:

- за каждый правильный ответ начисляется *5 баллов*;
- при отсутствии правильных ответов баллы не начисляются.

**ЗАДАНИЕ 2. Выживание в условиях природной среды. Работа с топографической картой.**

**Условия:** по условным знакам прочитайте фрагмент топографической карты.

**Задание:** необходимо определить объект местности и его основные характеристики.

	объект местности	отдельно лежащий камень
	высота (в метрах)	2
	лежит на отметке (в метрах)	144,9

**Контрольное время:** – 1 минута.


**Оценка задания.** Максимальная оценка за правильно выполненное задание – *12 баллов*, при этом:

- за каждый правильный ответ начисляется *4 балла*;
- при отсутствии правильных ответов баллы не начисляются.

**ЗАДАНИЕ 3. Оказание первой помощи пострадавшим.**

**Условия:** ваш товарищ получил ранения.

**Задание:** поставьте знак + определяющий действия, запрещающие в оказании первой помощи при ранениях.

	действия:	поставьте +
	вправлять выпавшие органы	+
	поддерживать словесный контакт с пострадавшим	
	удалять из раны, торчащие костные отломки	+
	накладывать на выпавшие органы, давящие повязки	+
	выполнять простейшие приемы обезболивания	
	накладывать холод на выпавшие органы	+

	удалять из раны инородные тела	+
	при большой кровопотере проводить противошоковые мероприятия	
	поить пострадавшего при травме живота (даже при подозрении на нее), в бессознательном состоянии и при неукротимой рвоте	+
	накладывать на рану мазевые повязки, засыпать в рану порошки лекарственных препаратов (антибиотики, стрептоцид и другие)	+
	вызвать скорую медицинскую помощь	
	заливать в рану спиртовые препараты (йод, спирт и прочие)	+

**Контрольное время:** – 2 минуты.

**Оценка задания.** Максимальная оценка за правильно выполненное задание – **48 баллов**, при этом:


- за каждый правильный ответ начисляется *6 баллов*;
- при отсутствии правильных ответов баллы не начисляются.

#### **ЗАДАНИЕ 4. Основы военной службы.**

**Условия:** по изображениям погон определить войсковые и корабельные звания ВС РФ.

**Задание:** необходимо определить и разделить представленные изображения погон на две группы: войсковые и корабельные звания ВС РФ.

Войсковые звания ВС РФ	Корабельные звания ВС РФ
	
	
	



**Контрольное время:** – 1 минута.

**Оценка задания.** Максимальная оценка за правильно выполненное задание – **40 баллов**, при этом:

- за каждый правильный ответ начисляется **5 баллов**;
- при отсутствии правильных ответов баллы не начисляются.

№ задания	1	2	3	4	итог
Максимальное количество баллов	<b>50</b>	<b>12</b>	<b>48</b>	<b>40</b>	<b>150</b>

Общая оценка результата выполнения участником заданий практического тура определяется арифметической суммой всех баллов, полученных за выполнение всех заданий, которая не должна превышать 250 баллов. Оценка за каждое задание не может быть отрицательной, минимальная оценка 0 баллов.