

Министерство образования и науки Курской области
Задания для школьного этапа всероссийской олимпиады школьников
по истории в 2024 – 2025 учебном году

5-6 класс

На выполнение работы отводится 1 час 30 минут (90 минут)

Задание 1. Тестовые задания с одним правильным ответом (2 балла за каждый правильный ответ, максимальный балл – 6)

A1. Древние люди научились обрабатывать металл примерно:

- 1) 40 тысяч лет назад
- 2) 20 тысяч лет назад
- 3) 9 тысяч лет назад**
- 4) 3 тысячи лет назад

A2. Что такое шадуф:

- 1) приспособление, при помощи которого египтяне поднимали воду на поля;**
- 2) жертвоприношение богам;
- 3) оросительный канал;
- 4) орудие труда.

A3. Прочитайте отрывок из исторического источника и укажите, о каком городе идет речь.

«Я живу в северной части нашего государства. Недалеко от нашего города великая река впадает в море. Покровителем нашего города является бог Птах, который сотворил других богов и весь мир. Когда царь носил двойную корону, наш город был столицей».

- 1) Фивы
- 2) Мегиддо
- 3) Кадеш
- 4) Мемфис**

Задание 2. Верны ли следующие утверждения («Да» – «Нет»)? Ответы внесите в таблицу (2 балла за каждый правильный ответ, максимальный балл – 16).

1. В греческой мифологии богиня любви – Венера, а в римской мифологии – Афродита.
2. Эпос о Гильгамеше был создан в Древнем Египте.
3. Римский император Константин Великий известен своими гонениями на христиан.
4. Свергнувший последнего императора Западной Римской империи Одоакр отослал императорскую корону в Константинополь.
5. Аттила становится единовластным правителем державы остготов в V в. н. э.
6. Бенефиций – условное пожизненное земельное держание, введенное Карлом Мартеллом.
7. В Средневековой Франции в основе отношений между феодалами лежал принцип: «вассал моего вассала – мой вассал».
8. Папа Римский Лев III возложил на Карла Великого корону, объявив его

Императором Запада.

1	2	3	4	5	6	7	8
нет	нет	нет	да	нет	да	нет	да

Задание 3. Соотнесите языческих богов и сферу их деятельности (2 балла за каждый правильный ответ, максимальный балл – 10).

- | | |
|------------|--------------------------------|
| 1) Перун | А) прядение и ткачество; |
| 2) Велес | Б) гром, молния |
| 3) Мокошь | В) покровитель семян и посевов |
| 4) Стрибог | Г) покровитель скота |
| 5) Симаргл | Д) ветер. |

Ответ: 1Б 2Г 3А 4Д 5В.

Задание 4. Расположите события в хронологической последовательности (7 баллов за полностью верную последовательность; 0 баллов, если допущены ошибки).

- А) Завершение строительства Парфенона в Акрополе в Афинах.
- Б) Первая Мессенская война
- В) Первая Пелопоннесская война
- Г) Битва при Акциуме
- Д) Рождение Пифагора
- Е) Троянская война
- Ж) Первые Олимпийские игры

Ответ: ЕЖБДВАГ.


Задание 5. Соотнесите элементы правого и левого столбцов (2 баллов за каждый правильный ответ, максимальный балл – 18).

Имя полководца	Сражение, в котором он участвовал
1) Александр Македонский	А. Битва при Херонее;
2) Ганнибал	Б. Марафонское сражение;
3) Кир Великий	В. Саламинское сражение;
4) Мильтиад	Г. битва при Мегиддо;
5) Сципион	Д. завоевание Вавилона в 539 г. до н.э.;
6) Тутмос III	Е. битва при Гавгамеллах;
7) Фемистокл	Ж. покорение Заальпийской Галлии;
8) Филипп II Македонский	З. битва при Каннах;
9) Цезарь	И. битва близ г. Зама.

Ответ: 1Е 2З 3Д 4Б 5И 6Г 7В 8А 9Ж.

Задание 6. Соотнесите элементы правого и левого столбцов. В перечне справа есть лишнее наименование (2 балла за каждый правильный ответ, максимальный балл – 12).

1)



А)

«Отец истории». Автор трактата «История», описывающего греко-персидские войны и обычаи многих современных ему народов

2)



Б)


Ему Бог передал 10 заповедей, записанных на скрижалях

3)



В) Провел религиозную реформы. Приказал молиться единому богу Атону и перенес столицу в специально построенный город

4)



Г)

В истории его называют «Царь царей». Печатал золотые монеты со своим изображением в VI - V вв. до н.э.

5)



Д)

Её изображение украшало храмы по всей стране. Легенды рассказывают, что никогда ранее Египет не породил такой красавицы.

6)



Е)

Этот царь создал первую в истории постоянную армию из профессиональных лучников и пеших воинов

Ж) После гибели своего отца в возрасте 20 лет был объявлен царём. Этот царь подавил восстание фракийцев и заново подчинил Грецию.

Ответ: 1Е 2Д 3Г 4А 5Б 6В.

Задание 7. Заполните пробелы в тексте. Ответ оформите в виде перечня элементов под соответствующими номерами. Из какого документа данный фрагмент? (2 балла за каждый правильно заполненный пропуск, максимальный балл – 16).

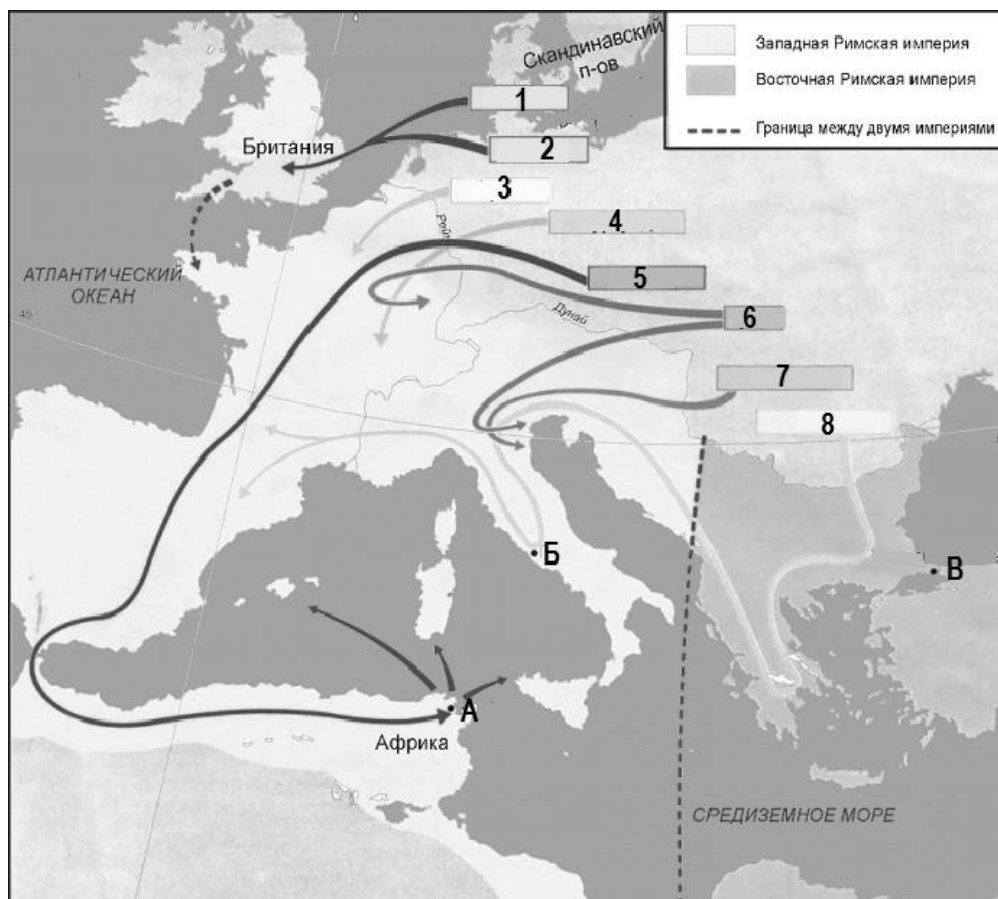
«Заложил _____**1**_____город великий, у того же града _____**2**_____ворота; заложил и церковь святой _____**3**_____, митрополию... И стала при нем вера христианская плодиться и расширяться, и _____**4**_____стали умножаться, и монастыри появляться... И любил _____**5**_____... книги..., читая их часто и ночью и днем. И собрал писцов многих, и переводили они с греческого на _____**6**_____язык. И написали они книг множество, ими же поучаются верующие люди и наслаждаются учением божественным. Как если один землю вспашет, другой же засеет, а иные жнут и едят пищу неоскудевающую - так и этот. Отец ведь его _____**7**_____землю вспахал и размягчил, то есть _____**8**_____просветил. Этот же засеял книжными словами сердца верующих людей».

Ответ:

Документ - «Повесть временных лет».

- 1. Ярослав**
- 2. Золотые ворота**
- 3. Софии**
- 4. Черноризцы (допустимо – монахи)**
- 5. Ярослав**
- 6. славянский**
- 7. Владимир**
- 8. крещением**

8. Рассмотрите карту-схему и выполните задания (максимальный балл – 15).



1) Напишите, под каким названием вошли в историю события, обозначенные на схеме стрелками. (1 балл)

Ответ: Великое переселение народов.

2) Напишите названия племён, перемещения которых показаны стрелками под соответствующими порядковыми номерами. (8 баллов)

Ответ:

1. (2) англы
2. (1) саксы
3. франки
4. бургунды
5. вандалы
6. гунны
7. остготы
8. вестготы

3) Запишите названия городов, обозначенных на схеме буквами. (3 балла)

Ответ: А. Карфаген Б. Рим В. Константинополь

4) Выберите названия морей, которые омывали территорию Восточной Римской империи, кроме тех, которые уже подписаны на карте. (3 балла)

- 1 Адриатическое
- 2 Германское
- 3 Северное
- 4 Балтийское
- 5 Ионическое
- 6 Черное

Ответ: 1, 5, 6.