

ОТВЕТЫ ШКОЛЬНОГО ЭТАПА ВСЕРОССИЙСКОЙ ОЛИМПИАДЫ ШКОЛЬНИКОВ ПО ГЕОГРАФИИ

5-6 класс

Теоретический тур

Задание 1.

Прочитайте текст, вставьте пропущенные в нем слова и ответьте на вопросы.

Особая карта, на которой изображена очень маленькая территория, называется (1. План местности). Для построения такой карты используют (2. Масштаб) 1:5000 (в 1 см 50 м) и крупнее. Для изображения объектов используют (3. Условные знаки), с их помощью можно ответить на многие вопросы, относительно изображенной там территории.

1. Какой берег реки Луговая между населенными пунктами Ершово и Савилровка крутой, а какой пологий?

2. Как расположен лес относительно села Савилровка? Как называется такой тип леса? Выберите породы деревьев, которые там могут произрастать.

А. Сосна

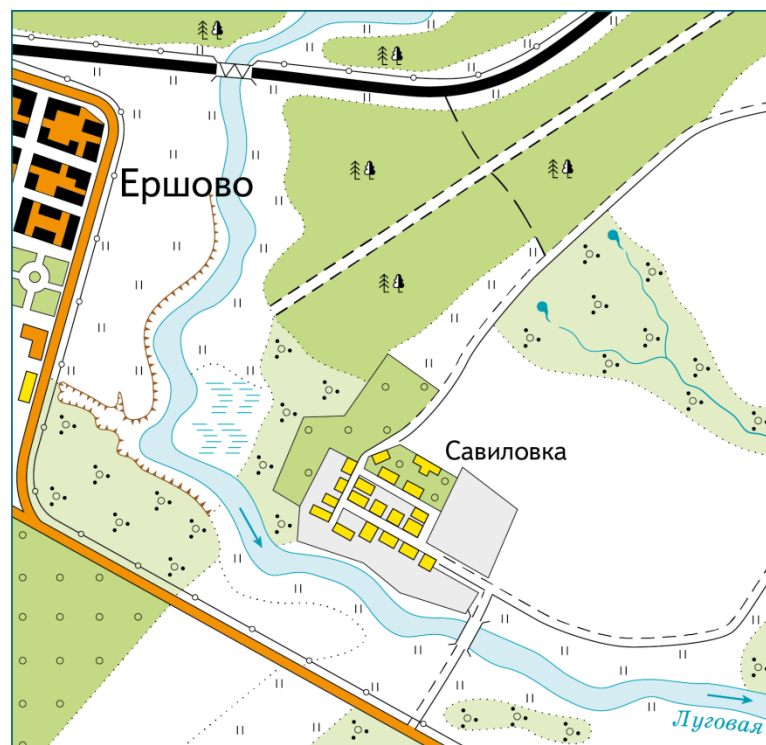
В. Ель

С. Дуб

Д. Берёза

Е. Пихта

Ф. Граб



Задание 2.

Выберите, какой будет режим освещенности и смена времен года на планете Земля, если угол наклона земной оси станет 90 градусов.

А. День и ночь по 12ч

В. Пол года день 24ч

С. Пол года ночь 24ч

А. Времен года не будет

В. Сезоны будут сменяться каждые три месяца

С. Сезоны будут сменяться каждые пол года

Задание 3.

Самые высокие горные вершины в разных странах являются их визитной карточкой. Определите вершины по ниже приведенным характеристикам:

1. Гора находится на границе Китая и Непала. Это самая высокая точка Гималаев.

2. Двуглавая гора находится в России, в пределах Бокового хребта севернее Главного Кавказского хребта.

3. Гора находится в Аргентине в национальном парке «Аконкагуа». Это высочайшая гора Анд, расположена в их центральной части

Тестовый тур

Блок 1. Выберите один правильный ответ

1. Кто из древнегреческих учёных доказал, что Земля имеет форму шара?

А. Геродот Б. Эратосфен В. Аристотель Г. Пифагор

2. Линия, которая делит земной шар на два полушария: северное и южное, называется:

А. Экватор Б. Начальный меридиан
В. Тропик Г. Полярный круг

3. Какой материк лежит сразу в трех полушариях?

А. Африка Б. Евразия В. Южная Америка Г. Австралия

4. Ясная звёздная ночь, но полярной звезды не видно. В каком полушарии мы находимся?
А. Северном Б. Южном В. Западном Г. Восточном
5. Выберите правильное утверждение
А. Солнце вращается вокруг Земли.
Б. День и ночь наступают потому, что Земля вращается вокруг своей оси и по-разному освещается Солнцем.
В. Ночь наступает, потому что на небе появляется Луна
Г. Длина светового дня зимой и летом одинакова
6. Самая высокая гора в России, это:
А. Белуха Б. Ключевская сопка В. Эльбрус Г. Народная
7. Наиболее подробно территория изображена на карте масштаба:
А. 1: 2500 Б. 1: 25000 В. 1:250000 Г. 1:2500000
8. Как называется полезное ископаемое, добычу которого производят в пределах месторождения «Курская магнитная аномалия»
А. Известняк Б. Огнеупорная глина
В. Железная руда Г. Каменный уголь
9. Как называется равнина к западу от Уральских гор?
А. Западно-Сибирская равнина
Б. Западно-Уральская равнина
В. Восточно-Сибирская равнина.
Г. Восточно-Европейская (Русская) равнина
10. Как называется самое «толстое» дерево на Земле?.
А. Секвойя Б. Дуб В. Платан Г. Баобаб

Блок 2. Выберите правильные ответы на вопросы

1. Кто из нижеприведенных руководителей экспедиций совершил кругосветные путешествия?:
А. Христофор Колумб
Б. Фернан Магеллан
В. Марко Поло
Г. Михаил Лазарев и Фадей Беллинсгаузен
Д. Джеймс Кук
2. Какие из перечисленных равнин будут находиться на высоте над уровнем моря более, чем 200 метров?:
А. Среднерусская возвышенность
Б. Прикаспийская низменность

- В. Великие Американские равнины
- Г. Окско-Донская низменность
- Д. Плато Путорана

3. В эмблемах, каких из перечисленных государственных заповедников есть изображение медведя?:



- А. Васюганский
- Б. Саяно-Шушенский
- В. Буреинский
- Г. Кроноцкий
- Д. Шайтан-Тау



4. Какие из этих растений обитают в естественной среде на территории природной зоны лесостепь

- А. Клен татарский
- Б. Дуб черешчатый
- В. Лиственница европейская
- Г. Барбарис обыкновенный
- Д. Каштан съедобный

Блок 3. Установите соответствие

Какие из этих животных обитающие в естественной среде (не в зоопарке) соответствуют природным зонам: тайга, тундра, степь, пустыня

1.	Тундра	А.	 <p>кулан</p>
2	Тайга	Б.	 <p>Лисица Фенёк</p>

3	Степь	В.	 <p>Росомаха</p>
4	Пустыня	Г.	 <p>Песец</p>

Ответ: 1Г, 2В, 3А, 4Б

Ответы и критерии оценки

Теоретический тур Задание 1.

№	вопрос	ответ	Количество баллов за правильный ответ
1	Пропущенное слово1	План местности	1
2	Пропущенное слово2	Масштаб	1
3	Пропущенное слово3	Условные знаки	1
4	1. Какой берег реки Луговая между населенными пунктами Ершово и Савиловка крутой, а какой пологий?	Правый берег крутой, там показан условным обозначением обрыв. Левый берег – пологий. Там показано условное	2

		обозначение болота	
5	2. Как расположен лес относительно села Савиловка? Как называется такой тип леса? Выберите породы деревьев, которые там могут произрастать:	Лес расположен к северу от села. Тип леса - смешанный, так как там присутствуют и хвойные и лиственные породы. Породы: сосна, ель (хвойные), дуб, береза (лиственные)	1 1 2

Общая сумма: 9 баллов

Задание 2.

№	вопрос	ответ	Количество баллов за правильный ответ
1	Выберите, какой будет режим освещенности и смена времен года на планете Земля, если угол наклона земной оси станет 90 градусов.	- день и ночь будут везде равными - по 12ч смены - времён года не будет, т. к. угол наклона солнечных лучей будет постоянным.	2 2

Общая сумма: 4 баллов

Задание 3.

№	вопрос	ответ	Количество баллов за правильный ответ
1	Определите вершины по ниже приведенным характеристикам и укажите их высоту	1. Джомолунгма (Эверест) 8848м 2. Эльбрус, 5642м 3. Аконкагуа, 6960м	3 3 3

Общая сумма: 9 баллов

Общая сумма за тур: 22 балла

Тестовый тур

Блок 1		балл	Блок 2		балл	Блок 3		балл
1	В	1	1	БГД	3	1	1Г; 2В; 3А; 4Б	4
2	А	1	2	АВД	3			
3	Б	1	3	ВГД	3			
4	Б	1	4	АБГ	3			
5	Б	1						
6	В	1						
7	А	1						
8	В	1						
9	Г	1						
10	Г	1						

Общая сумма за тур: 20 баллов

Общая сумма баллов: 48 баллов